



Шифр участника _____

	Название: Год возведения:
	Название: Год возведения:

3дт
Сибирь

Шифр участника 509



Задание 4. Максимальный балл за задание – 8.

Установи соответствие между понятиями и их определениями.

Понятия	Определения понятий
1 Папирус	А) Сплав меди и олова
2 Бронза	Б) Усыпальница царей Египта и членов их семей
3 Шадуф	В) Писчий материал
4 Пирамида	Г) Приспособление для полива садов и огородов

Ответ:

1	2	3	4
В	А	Г	Б

Задание 5. Максимальный балл за задание – 8.

1. Отметьте на «линии времени» 753 г. до н.э., 73 г. до н.э., 490 г. до н.э., 1147 г. н.э., 476 г. н.э., 1945 г. н.э.?

49 476 190 753 / 1144 1945.

До нашей эры

Наша эра

Шифр участника 509

ЗАДАНИЯ ДЛЯ ОБУЧАЮЩИХСЯ

Время выполнения заданий – 45 минут
Максимальное количество баллов – 100 баллов

Задание 1. Максимальный балл за задание – 8.

Соотнесите периоды древнейшей истории и их приблизительную датировку.

Запишите буквы в таблицу, под которой он указан.

Приблизительная датировка	Период древнейшей истории
1 Полтора миллиона лет назад	А) появление первых стоянок древнейших людей на территории современной России
2 Полмиллиона лет назад	Б) начало использования древнейшими людьми огня
3 Сто тысяч лет назад	В) появление первых людей современного типа
4 Сорок тысяч лет назад	Г) начало последнего ледникового периода

Ответ:

1	2	3	4
В	А	Г	Б

Задание 2. Максимальный балл за задание – 15.

По какому принципу образованы ряды?




- + 1. Шерстистый носорог, мамонт, пещерный медведь высверженные мамонты
- + 2. Земледелие, скотоводство, ремесло земляные шоры
- 3. Духи, идолы, молитвы Можайты
- 4. Анупис, Осирис, Гор Сам
- + 5. Дубина, каменное рубило, палка-копалка орудия труда

Задание 3. Максимальный балл за задание – 6.

На контурной карте Египта:

1. Напишите названия морей, омывающих Египет. 1 море.
Восток Средиземное +
2. Напишите название главной реки Египта. Нил
3. Напишите, как называется материк, на котором расположен Египет. Азия.

Шифр участника 509

	<p>Название: <u>1414.</u> Год возведения:</p>
	<p>Название: <u>81418.</u> Год возведения:</p>
	<p>Название: <u>X</u> Год возведения: <u>1820</u></p>

Шифр участника 509

Задание 8. *Максимальный балл за задание – 8.*

Прочитайте текст и вставьте пропущенные слова.

Завоевательные походы египетских фараонов стали особенно успешны после появления важного изобретения в области военного снаряжения – запряжённой конями А) _____, позволившей воинам быстро передвигаться на большие расстояния и внезапно атаковать противника. Ещё в эпоху Древнего царства Египет стремился покорить богатую золотыми рудниками Б) _____ на юге. В эпоху Нового царства, помимо этой области, египетские войска покорили В) _____ на западе, богатый медными рудниками Г) _____ полуостров, а затем, вторглись в Азию, завоевали Д) _____, Е) _____ и Ж) _____, дойдя до реки З) _____.

Ответ:

А)		Д)
Б)		Е)
В)		Ж)
Г)		З)

Задание 9. *Максимальный балл за задание – 12.*

Расположите ремесленные изделия в хронологическом порядке их появления.

- А. глиняная посуда
- Б. литые медные орудия труда
- В. деревянная посуда
- Г. кованые медные орудия труда
- Д. бронзовые орудия труда
- Е. золотые и серебряные украшения

Ответ:

1	2	3	4	5	6
<u>а</u>	<u>б</u>	<u>в</u>	<u>г</u>	<u>д</u>	<u>е</u>

Задание 10. *Максимальный балл за задание – 15.*

На фотографиях изображены памятники архитектуры и скульптуры города Омска. Определите их название. Напишите год возведения каждого памятника.